

ESAME DI STATO DI ISTRUZIONE SECONDARIA SUPERIORE

Indirizzo: LI02 – SCIENTIFICO
LI03 – SCIENTIFICO - OPZIONE SCIENZE APPLICATE

Tema di: FISICA

ESEMPIO PROVA

Il candidato risolve uno dei due problemi e risponde a 3 quesiti del questionario.

PROBLEMA 1

In laboratorio è stato preparato il dispositivo rappresentato in Figura 1. La bobina è costituita da 100 spire rettangolari di rame i cui lati misurano 25 cm e 30 cm. La bobina può ruotare con attrito trascurabile intorno al suo asse e durante la rotazione le estremità del filo strisciano su due anelli conduttori, mantenendo con essi un contatto elettrico. La bobina è immersa in un campo magnetico uniforme e costante.

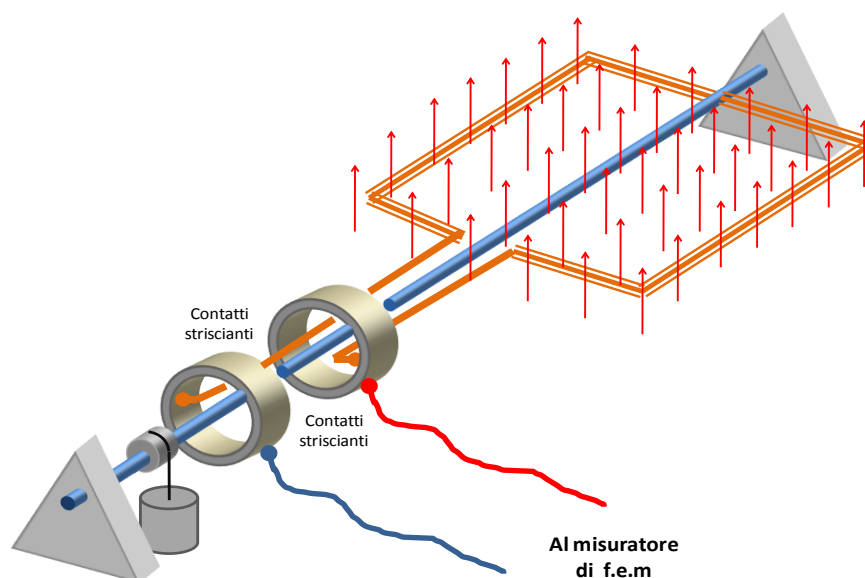
Sull'asse della bobina è montato un cilindro intorno al quale è avvolto un filo. All'estremità del filo è sospeso un pesetto. Quando il pesetto viene lasciato libero, esso cade verso il basso mettendo in rotazione la bobina. Alla partenza del pesetto il piano della spira è perpendicolare alla direzione del campo magnetico.

Durante la rotazione della bobina, alle sue estremità, che restano aperte in modo che non circoli corrente, si produce una f.e.m. il cui valore viene rilevato da un sistema di acquisizione automatico che acquisisce 1000 valori al secondo.

In Figura 2 sono stati riportati i dati sperimentali acquisiti dal sistema. Questo grafico rappresenta in ordinata la f.e.m. prodotta alle estremità della bobina durante la caduta del pesetto ed in ascissa il tempo.

La Figura 3 rappresenta lo stesso grafico di Figura 2. In quest'ultimo grafico i punti sperimentali sono stati uniti da segmenti per migliorarne la leggibilità.

Figura 1



1. Spiega il fenomeno fisico che produce la f.e.m. alle estremità della bobina e, sulla base di esso, spiega il particolare andamento del grafico sperimentale.
2. Utilizza la legge del fenomeno fisico per dedurre teoricamente la funzione matematica $y = f(t)$ che descrive la f.e.m. alle estremità della bobina in funzione del tempo e verifica che la funzione ottenuta, coerentemente con il grafico sperimentale, abbia ampiezza crescente e periodo decrescente. Considera l'intensità del campo magnetico \mathbf{B} e l'accelerazione angolare α della bobina come parametri. Considera inoltre aperte le estremità della bobina.
3. Deduci dal grafico sperimentale le informazioni quantitative necessarie per determinare il valore dell'accelerazione angolare della bobina e l'intensità del campo magnetico in cui ruota la bobina.
4. Spiega qual è il significato fisico dell'area, evidenziata in Figura 3, compresa tra ogni semiperiodo e l'asse dei tempi. Verifica, utilizzando la funzione $y = f(t)$, che queste aree hanno, in modulo, tutte lo stesso valore.

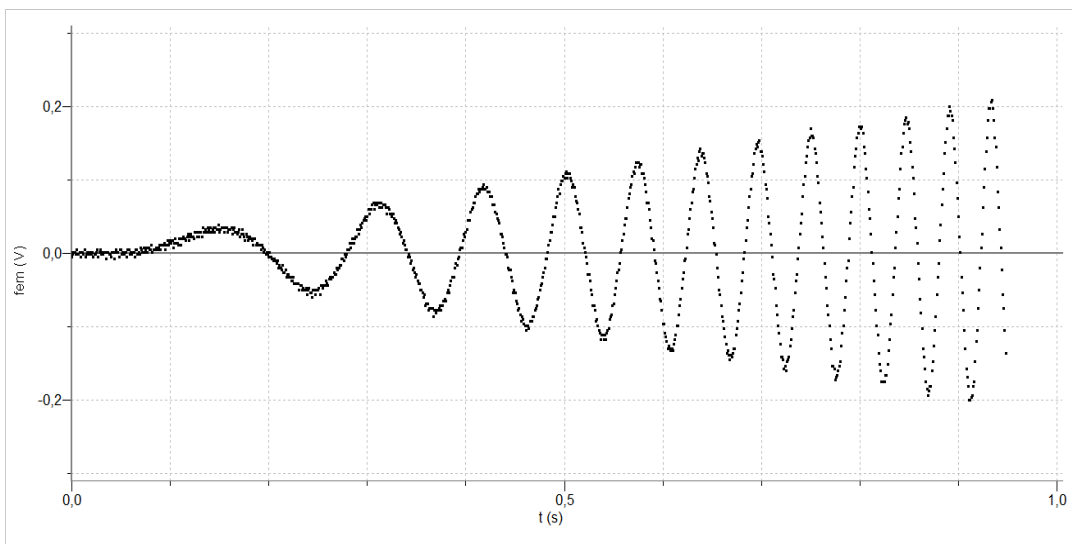


Figura 2

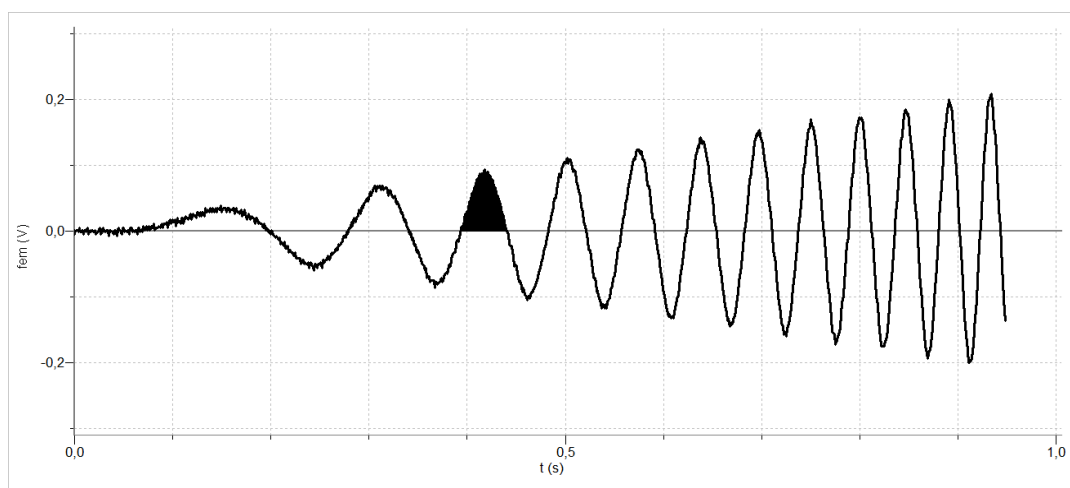


Figura 3

PROBLEMA 2

Negli anni 1963-1964 il fisico W. Bertozzi con la sua equipe realizzò un esperimento al MIT di Boston verificando l'esistenza di una velocità limite, pari a quella della luce nel vuoto.

Secondo la fisica classica è possibile accelerare un corpo dalla quiete fino a una velocità qualunque, per quanto grande essa sia, mentre per la relatività questo non è possibile.

L'esperimento consiste nell'accelerare elettroni attraverso opportuni campi elettrici prodotti da un acceleratore di Van de Graaff e da un acceleratore lineare a radiofrequenza (LINAC). Il fascio di elettroni è prodotto da un catodo caldo, sottoforma di impulsi della durata di $3 \cdot 10^{-9} \text{ sec}$ e viene accelerato dall'acceleratore di Van de Graaff attraverso differenze di potenziale variabili fino a un massimo di 1,5 milioni di volt.

Gli elettroni, usciti dall'acceleratore di Van de Graaff, attraversano un tubicino metallico posto in A nel quale inducono un impulso di corrente che viene inviato all'oscilloscopio (vedi Figure 1 e 2). Il tragitto da A e B è lungo 8,40 m ed è privo di aria e di campi elettrici che possano modificare la velocità degli elettroni (l'acceleratore LINAC è spento in una prima fase dell'esperimento e in particolare non è utilizzato nelle prime tre misure di sotto riportate). Arrivati in B gli elettroni urtano un disco di alluminio nel quale provocano un impulso di corrente che viene inviato anch'esso all'oscilloscopio. Sulla distanza tra i due impulsi dà la misura del tempo impiegato dagli elettroni per andare da A a B e quindi, nota la distanza AB, è possibile calcolare la loro velocità.

Ogni quadretto del reticolo dell'oscilloscopio (divisione) corrisponde ad un tempo di circa $(0,98 \cdot 10^{-8} \text{ sec})$.

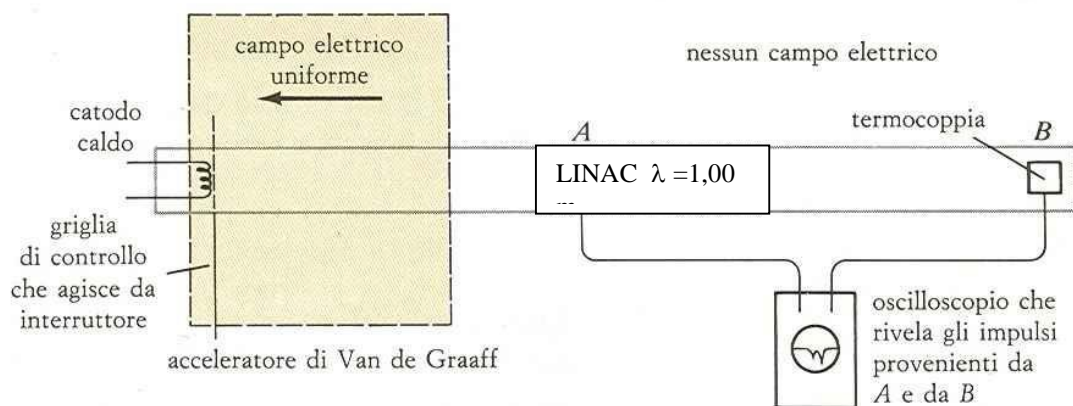


Figura 1

Fonte: http://giulioannovi.altervista.org/fisica/quinta/Energia_cinetica_relativistica.pdf

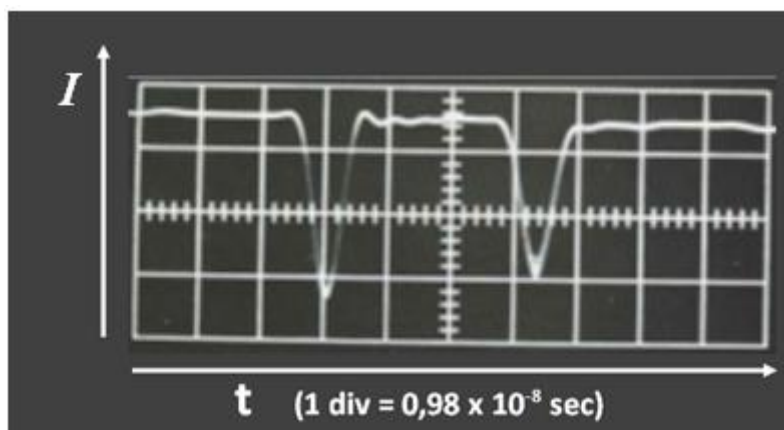


Figura 2 Impulsi provenienti da A e da B

Leggendo sull'oscilloscopio la distanza tra i due impulsi, al variare della differenza di potenziale applicata dall'acceleratore agli elettroni, si ottengono i seguenti valori (Tabella 1).

Differenza Potenziale ($10^6 V$)	0,5	1,0	1,5
N° divisioni tra i due impulsi	3,30	3,10	2,95

Tabella 1

In una seconda fase dell'esperimento, per aumentare ulteriormente l'energia degli elettroni viene utilizzato anche l'acceleratore lineare (LINAC) presente nel primo metro successivo al punto A, nel quale gli elettroni vengono accelerati da ulteriori 3,0 milioni di volt.

Nell'esperimento viene anche misurato il calore prodotto dagli elettroni sul disco B adoperando una termocoppia, e la carica incidente sullo stesso disco B, per mezzo di un misuratore di cariche. I risultati ottenuti per due diversi valori di differenza di potenziale complessiva sono (Tabella 2):

Differenza Potenziale ($10^6 V$)	1,5	4,5
Energia del fascio in B (J)	10,0	29,2
Carica del fascio in B (μC)	6,1	6,1

Tabella 2

Dopo questa breve esposizione, ti viene richiesto di:

1. Analizzare l'esperimento descritto e rappresentare in un piano cartesiano l'andamento di $\frac{v^2}{c^2}$, dove v è la velocità degli elettroni nel punto B e c è la velocità della luce nel vuoto, in funzione del lavoro W compiuto dal campo elettrico nell'acceleratore, sia per i valori di velocità previsti dal modello classico che per i valori effettivamente misurati nell'esperimento.
2. Individuare il modello fisico più adatto a descrivere la situazione sperimentale, relativamente all'andamento di $\frac{v^2}{c^2}$ in funzione del lavoro W compiuto dal campo elettrico nell'acceleratore.
3. Calcolare l'andamento di $\frac{v^2}{c^2}$ atteso in base al modello fisico individuato, confrontandolo con l'andamento sperimentale.
4. Verificare, utilizzando i dati di Tabella 2 nei casi di differenza di potenziale 1,5 e 4,5 milioni di volt, che l'energia cinetica posseduta dagli elettroni quando arrivano in B è circa uguale a quella fornita dall'acceleratore, giustificando così la seguente affermazione: "Il fatto che il valore della velocità misurata sia inferiore a quello previsto dalla fisica classica non è dovuto a perdite di energia nell'apparato".

QUESTIONARIO

1. Una lampadina a incandescenza di potenza $P = 100W$ emette luce in maniera isotropa. Se viene posta al centro di una stanza cubica di lato $L = 7m$, quanta energia arriverà in 10 minuti sul soffitto della stanza?
2. Un elettrone e un positrone (antiparticella dell'elettrone con la stessa massa dell'elettrone, ma con carica opposta) si muovono uno contro l'altro con la stessa velocità. L'energia posseduta da entrambe le particelle è di $1,51 MeV$.
Sapendo che la loro massa a riposo è di $0,511 \frac{MeV}{c^2}$, qual è la velocità del positrone nel sistema di riferimento dell'elettrone?
3. Un atomo di idrogeno si trova in uno stato eccitato dopo aver assorbito un fotone ultravioletto di lunghezza d'onda $\lambda = 97,2 nm$.
Questo atomo può riportarsi allo stato fondamentale seguendo diverse transizioni a ognuna delle quali corrisponde la emissione di luce di una particolare lunghezza d'onda.
Quante sono le transizioni possibili che provocano emissione di fotoni con lunghezza d'onda diversa da quella del fotone assorbito?
Quali tra queste transizioni provocano emissione nel visibile?
(costante di Rydberg: $R = 1,0974 \cdot 10^7 m^{-1}$)
4. Un'antenna ricevente semplificata è costituita da una spira di rame di forma quadrata. Il lato della spira misura 20 cm e le sue estremità sono collegate ad un voltmetro. Quest'ultimo è impostato in modo da fornire il valore efficace della f.e.m. ai capi della spira, ovvero

$$(f.e.m.)_{eff} = \frac{(f.e.m.)_{max}}{\sqrt{2}}$$

dove $(f.e.m.)_{max}$ è il valore massimo di una f.e.m. alternata.

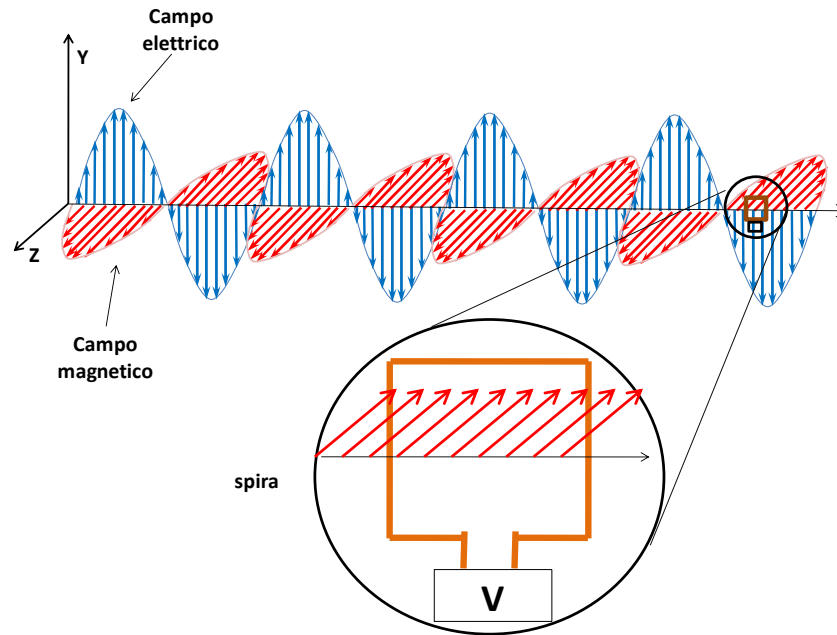
L'antenna ricevente è posta a 100m dall'antenna di una radio ricetrasmittente. Quest'ultima è del tipo utilizzato dai radioamatori.

Queste radio trasmettono ad una frequenza di $27 MHz$ e la legge impone loro di trasmettere con una potenza non superiore a $4W$ per non disturbare la ricezione delle trasmissioni radiofoniche e televisive. Talvolta i radioamatori non rispettano questo limite e trasmettono con potenze che possono arrivare a $200W$.

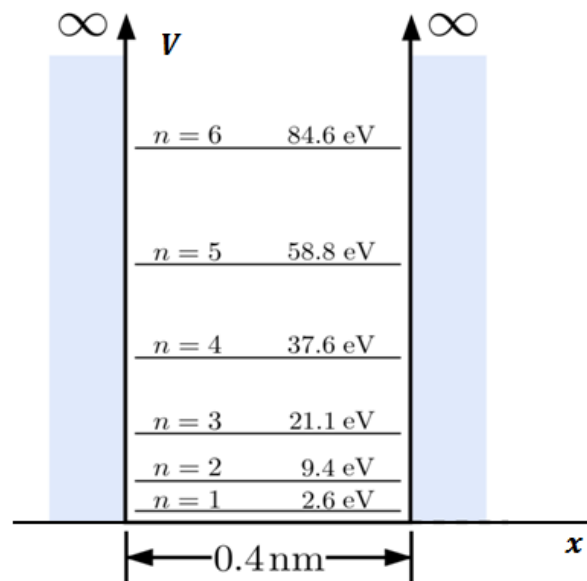
Si vuole stabilire se la ricetrasmittente in esame rispetta il limite di potenza imposto dalla legge.

Il nostro voltmetro misura il massimo della f.e.m. quando il piano della spira è parallelo alla direzione di propagazione dell'onda e perpendicolare al campo magnetico, come mostrato in figura. Il valore efficace di questa f.e.m. è di $12,5 mV$.

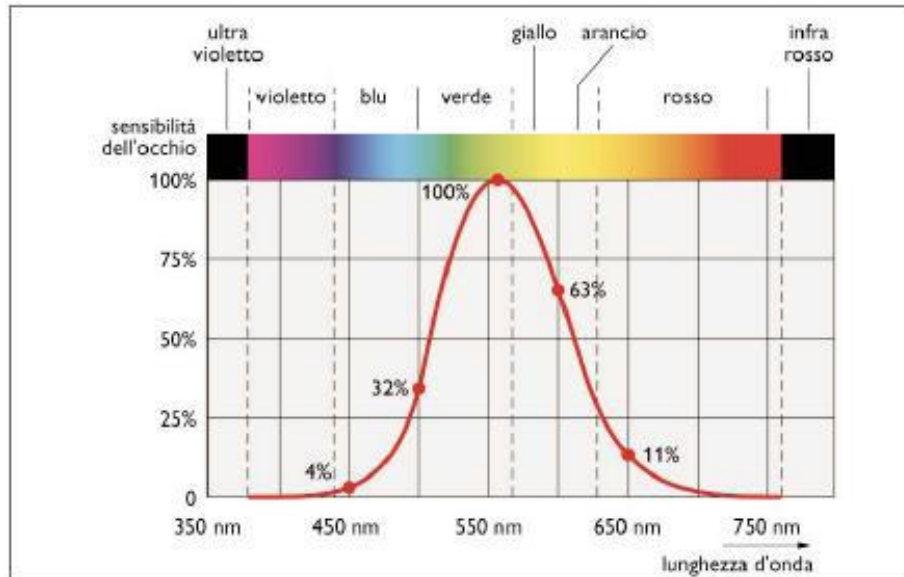
Qual è la potenza emessa dall'antenna della ricetrasmittente?



5. Nel grafico sono rappresentati i livelli energetici di una particella di massa m confinata in una buca di potenziale infinita unidimensionale (detta anche pozzo). Utilizzando il principio di de Broglie e assumendo che la funzione d'onda stazionaria si annulli sui bordi della buca, determina la massa della particella.



6. La figura riportata di seguito mostra come varia la sensibilità relativa percentuale del nostro occhio al variare della lunghezza d'onda nello spettro visibile. Il massimo della sensibilità (posto pari a 100%) si ha per $\lambda = 555\text{nm}$.



Fonte: <http://www.progettazioneottica.it/unita-fotometriche-lumen-candele-lux/1172>

NOTA: La sensibilità assoluta del nostro occhio per una particolare lunghezza d'onda è definita come il rapporto tra l'energia che viene inviata dalla retina al cervello (ad esempio sotto forma di corrente elettrica) e l'energia dell'onda elettromagnetica incidente sulla retina. La sensibilità relativa percentuale per una particolare lunghezza d'onda è definita come il rapporto tra la sensibilità assoluta a quella lunghezza d'onda e la sensibilità assoluta alla lunghezza d'onda $\lambda=555$ nm, il tutto moltiplicato per 100.

Durata massima della prova: 6 ore.

È consentito l'uso della calcolatrice non programmabile.

È consentito l'uso del dizionario bilingue (italiano-lingua del paese di provenienza) per i candidati di madrelingua non italiana.

Non è consentito lasciare l'Istituto prima che siano trascorse 3 ore dalla dettatura del tema.

ISTRUZIONI per la compilazione

Il presente documento si compone di due parti, una (sezione A) relativa alla valutazione dei problemi, e una (sezione B) relativa alla valutazione dei quesiti.

Gli indicatori della rubrica (sezione A) sono descritti in quattro livelli; a ciascun livello sono assegnati dei punteggi, il valor massimo del punteggio della sezione A è 75. Nel problema è richiesto allo studente di rispondere a **4 quesiti** che rappresentano le **evidenze** rispetto alle quali si applicano **i quattro indicatori di valutazione**:

1. lo studente **esamina la situazione fisica proposta e riconosce modelli o analogie o leggi formulando ipotesi esplicative** adatte alle richieste secondo 4 livelli di prestazione (L1, L2, L3, L4 in ordine crescente) ai quali è assegnato un punteggio all'interno della fascia;
2. lo studente **formalizza la situazione problematica applicando gli strumenti matematici e disciplinari rilevanti** per ottenere il risultato di ogni singola richiesta secondo 4 livelli di prestazione (L1, L2, L3, L4 in ordine crescente) ai quali è assegnato un punteggio all'interno della fascia;
3. lo studente **interpreta e elabora i dati proposti**, anche di natura sperimentale, **verificandone la pertinenza al modello scelto** secondo 4 livelli di prestazione (L1, L2, L3, L4 in ordine crescente) ai quali è assegnato un punteggio all'interno della fascia;
4. lo studente **descrive il processo risolutivo adottato e comunica con un linguaggio specifico** i risultati ottenuti **valutando la coerenza** con la situazione problematica proposta secondo 4 livelli di prestazione (L1, L2, L3, L4 in ordine crescente) ai quali è assegnato un punteggio all'interno della fascia.

La colonna **evidenze** individua quale/i dei 4 quesiti del problema sia/siano direttamente connesso/i all'indicatore; un quesito può afferire a più indicatori.

La griglia della sezione B ha indicatori che **afferiscono alla sfera della conoscenza, dell'abilità di applicazione e di calcolo e permette di valutare i sei quesiti di cui lo studente ne deve svolgere tre a sua scelta.**

Per ciascuno dei sei quesiti è stabilita la fascia di punteggio per ogni indicatore. Il totale del punteggio per ogni quesito è **25**, e dovendone lo studente risolvere **tre su sei**, il punteggio massimo relativo ai quesiti è **75**, **questo implica un ugual peso dato alla soluzione del problema e dei quesiti.**

Infine è fornita la scala di conversione dal punteggio (max 150) al voto in quindicesimi (max 15/15).

Sezione A : VALUTAZIONE DEL PROBLEMA

Indicatori	Livello	Descrittori	Evidenze	Punti	Punteggio
Esaminare la situazione fisica proposta formulando le ipotesi esplicative attraverso modelli o analogie o leggi	L1	Analizza in modo superficiale o frammentario il contesto teorico o sperimentale proposto; dai dati numerici o dalle informazioni non riesce a dedurre il modello o le analogie o la legge che esplicita la situazione problematica; individua nessuna o solo alcune delle grandezze fisiche necessarie.		0-4	
	L2	Analizza in modo parziale il contesto teorico o sperimentale proposto; dai dati numerici o dalle informazioni deduce, in parte o in modo non completamente corretto , il modello o le analogie o la legge che esplicita la situazione problematica; individua solo alcune delle grandezze fisiche necessarie.		5-9	
	L3	Analizza in modo completo anche se non critico il contesto teorico o sperimentale proposto; dai dati numerici o dalle informazioni deduce il modello o le analogie o la legge che esplicita quasi correttamente la situazione problematica; individua tutte le grandezze fisiche necessarie.		10-14	
	L4	Analizza in modo completo e critico il contesto teorico o sperimentale proposto; dai dati numerici o dalle informazioni deduce correttamente il modello o le analogie o la legge che esplicita la situazione problematica; individua tutte le grandezze fisiche necessarie.		15-18	
Formalizzare situazioni problematiche e applicare gli strumenti matematici e disciplinari rilevanti per la loro risoluzione	L1	Individua una formulazione matematica non idonea, in tutto o in parte , a rappresentare il fenomeno fisico, usa un simbolismo solo in parte adeguato, non mette in atto il procedimento risolutivo richiesto dal tipo di relazione matematica individuata.		0-4	
	L2	Individua una formulazione matematica parzialmente idonea a rappresentare il fenomeno fisico, usa un simbolismo solo in parte adeguato , mette in atto parte del procedimento risolutivo richiesto dal tipo di relazione matematica individuata.		5-10	
	L3	Individua una formulazione matematica idonea a rappresentare il fenomeno fisico anche se con qualche incertezza , usa un simbolismo adeguato, mette in atto un adeguato procedimento risolutivo richiesto dal tipo di relazione matematica individuata.		11-16	
	L4	Individua una formulazione matematica idonea e ottimale a rappresentare il fenomeno fisico, usa un simbolismo necessario, mette in atto il corretto e ottimale procedimento risolutivo richiesto dal tipo di relazione matematica individuata.		17-21	
Interpretare e/o elaborare i dati proposti, anche di natura sperimentale, verificandone la pertinenza al modello scelto	L1	Fornisce una spiegazione sommatoria o frammentaria del significato dei dati o delle informazioni presenti nel testo, non è in grado di riunire gli elementi acquisiti al fine di delineare una struttura organizzata e coerente alla situazione problematica proposta.		0-4	
	L2	Fornisce una spiegazione parzialmente corretta del significato dei dati o delle informazioni presenti nel testo, è in grado solo parzialmente di riunire gli elementi acquisiti al fine di delineare una struttura organizzata e coerente alla situazione problematica proposta.		5-10	
	L3	Fornisce una spiegazione corretta del significato dei dati o delle informazioni presenti nel testo, è in grado di riunire gli elementi acquisiti al fine di delineare una struttura organizzata e coerente alla situazione problematica proposta, anche se con qualche incertezza .		11-16	
	L4	Fornisce una spiegazione corretta ed esaustiva del significato dei dati o delle informazioni presenti nel testo, è in grado, in modo critico ed ottimale , di riunire gli elementi acquisiti al fine di delineare una struttura organizzata e coerente alla situazione problematica proposta.		17-21	
Descrivere il processo risolutivo adottato e comunicare i risultati ottenuti valutandone la coerenza con la situazione problematica proposta	L1	Giustifica in modo confuso e frammentato le scelte fatte sia per la definizione del modello o delle analogie o della legge, sia per il processo risolutivo adottato; comunica con linguaggio scientificamente non adeguato le soluzioni ottenute di cui non riesce a valutare la coerenza con la situazione problematica; non formula giudizi di valore e di merito complessivamente sulla soluzione del problema.		0-3	
	L2	Giustifica in modo parziale le scelte fatte sia per la definizione del modello o delle analogie o della legge, sia per il processo risolutivo adottato; comunica con		4-7	

		linguaggio scientificamente non adeguato le soluzioni ottenute di cui riesce a valutare solo in parte la coerenza con la situazione problematica; formula giudizi molto sommari di valore e di merito complessivamente sulla soluzione del problema.			
	L3	Giustifica in modo completo le scelte fatte sia per la definizione del modello o delle analogie o della legge, sia per il processo risolutivo adottato; comunica con linguaggio scientificamente adeguato anche se con qualche incertezza le soluzioni ottenute di cui riesce a valutare la coerenza con la situazione problematica; formula giudizi un po' sommari di valore e di merito complessivamente sulla soluzione del problema.		8-11	
	L4	Giustifica in modo completo ed esauriente le scelte fatte sia per la definizione del modello o delle analogie o della legge, sia per il processo risolutivo adottato; comunica con linguaggio scientificamente corretto le soluzioni ottenute di cui riesce a valutare completamente la coerenza con la situazione problematica; formula correttamente ed esaustivamente giudizi di valore e di merito complessivamente sulla soluzione del problema.		12-15	
TOTALE					

Sezione B: VALUTAZIONE DEI QUESITI

Indicatori	Quesiti (Valore massimo attribuibile 75/150 = 25x3)						Punteggio sez. B
	Q1	Q2	Q3	Q4	Q5	Q6	
COMPRESIONE e CONOSCENZA <i>Comprende la richiesta. Conosce i contenuti.</i>	(0-6) —	(0-6) —	(0-7) —	(0-6) —	(0-7) —	(0-6) —	
ABILITA' LOGICHE e RISOLUTIVE <i>È in grado di separare gli elementi dell'esercizio evidenziandone i rapporti. Usa un linguaggio appropriato. Sceglie strategie risolutive adeguate.</i>	(0-6) —	(0-6) —	(0-3) —	(0-6) —	(0-6) —	(0-7) —	
CORRETTEZZA dello SVOLGIMENTO <i>Esegue calcoli corretti. Applica Tecniche e Procedure, anche grafiche, corrette.</i>	(0-6) —	(0-4) —	(0-6) —	(0-7) —	(0-6) —	(0-6) —	
ARGOMENTAZIONE <i>Giustifica e Commenta le scelte effettuate.</i>	(0-3) —	(0-4) —	(0-4) —	(0-3) —	(0-3) —	(0-3) —	
VALUTAZIONE <i>Formula autonomamente giudizi critici di valore e di metodo.</i>	(0-4) —	(0-5) —	(0-5) —	(0-3) —	(0-3) —	(0-3) —	
Punteggio totale quesito							

Calcolo del punteggio Totale

PUNTEGGIO SEZIONE A (PROBLEMA)	PUNTEGGIO SEZIONE B (QUESITI)	PUNTEGGIO TOTALE

Tabella di conversione dal punteggio grezzo al voto in quindicesimi

Punteggio Totale	0-4	5-10	11-18	19-26	27-34	35-43	44-53	54-63	64-74	75-85	86-97	98-109	110-123	124-137	138-150
Voto	1	2	3	4	5	6	7	8	9	10	11	12	13	14	15